


Lekcja

Temat: Porównywanie ułamków o jednakowych licznikach


<https://youtu.be/l1YqPPEiY1E> <-- film

Jeśli dwa ułamki mają liczniki równe 1, to większy jest ten, który ma mniejszy mianownik.

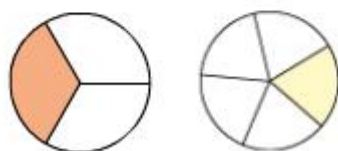
Kawałki mojej pizzy są mniejsze, bo jest podzielona na więcej części.



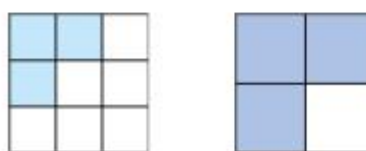
Mam tyle samo kawałków, ale mniej pizzy.



Z dwóch ułamków o jednakowych licznikach ten jest większy, który ma mniejszy mianownik.



$$\frac{1}{3} > \frac{1}{5}$$



$$\frac{3}{9} < \frac{3}{4}$$

Przepisz informację z ramki pod tematem lekcji(jeśli nie wklejasz)

Wykonaj ćwiczenie 3/62 i ćwiczenie 5/63